

## 2. Orthogonalität

Setzt man fest, dass der Nullvektor auf jedem Vektor senkrecht steht dann gilt:

Satz:

Die Vektoren  $\vec{a}$  und  $\vec{b}$  stehen genau dann aufeinander senkrecht (sind orthogonal), wenn gilt:  
 $\vec{a} \cdot \vec{b} = 0$

Aufgabe:

Gegeben: A(2, 3, -2), B(6, -1, 1)

Gesucht sind die Punkte P auf der x-Achse, für die das Dreieck APB bei P rechtwinklig ist!

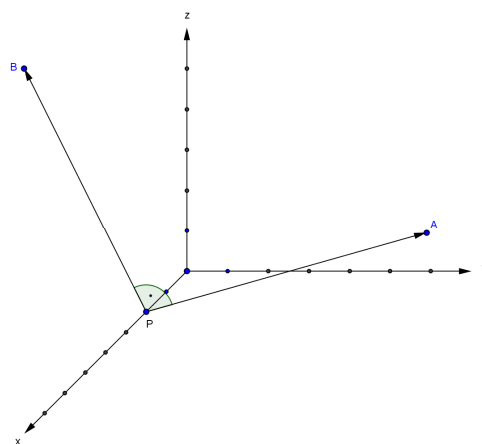
Bedingung

$$\overrightarrow{PA} \cdot \overrightarrow{PB} = \begin{pmatrix} 2-x \\ 3 \\ -2 \end{pmatrix} \cdot \begin{pmatrix} 6-x \\ -1 \\ 1 \end{pmatrix} = x^2 - 8x + 7 = 0$$

Die quadratische Gleichung hat die Lösungen

$$x_1 = 1 \text{ und } x_2 = 7$$

Die gesuchten Punkte  $P_1(1, 0, 0)$ ,  $P_2(7, 0, 0)$  sind die Schnittpunkte der Thaleskugel über der Strecke AB mit der x-Achse.



Übungsaufgabe:

Vom Rechteck ABCD kennt man die Endpunkte einer Diagonalen A(9, 6, 3) und C(-1, -6, 4). Die Ecke B liegt auf der positiven x-Achse. Bestimme die fehlenden Eckpunkte B und D.

Lösung:

$$\overrightarrow{BC} \cdot \overrightarrow{BA} = \begin{pmatrix} -1-x \\ -6 \\ 4 \end{pmatrix} \cdot \begin{pmatrix} 9-x \\ 6 \\ 3 \end{pmatrix} = x^2 - 8x - 33 = (x+3) \cdot (x-11) = 0$$

B(11, 0, 0). Wegen  $\overrightarrow{AD} = \overrightarrow{BC}$  gilt  $\vec{d} = \vec{a} + \vec{c} - \vec{b}$  und schließlich D(-3, 0, 7)

Aufgabe:

Bestimme x bzw. z so, dass die Vektoren  $\vec{a} = \begin{pmatrix} x \\ -2 \\ 6 \end{pmatrix}$  und  $\vec{b} = \begin{pmatrix} 2 \\ 6 \\ z \end{pmatrix}$  ein Quadrat aufspannen.

Die Bedingungen:  $\vec{a} \cdot \vec{b} = 0$  und  $|\vec{a}|^2 = |\vec{b}|^2$  führen auf das folgende Gleichungssystem:

$$\begin{cases} 2x - 12 + 6z = 0 \\ x^2 + 40 = z^2 + 40 \end{cases}$$

mit den Lösungen:  $x_1 = -3$  und  $z_1 = 3$  bzw.  $x_2 = z_2 = 3/2$

## Senkrecht aufeinanderstehende Geraden in der Grundebene

Aufgabe:

Gegeben sind die Punkte A(3,-2) und B(4,5).  
Bestimme den Punkt C auf der y-Achse so,  
dass das Dreieck ABC bei C rechtwinklig ist.

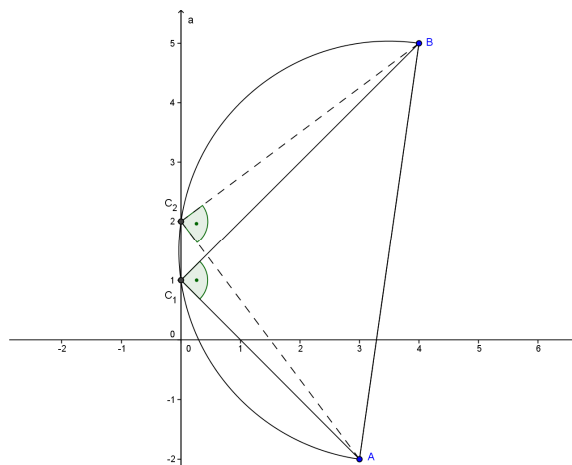
$$\overline{CA} = \begin{pmatrix} -3 \\ y+2 \end{pmatrix} \quad \overline{CB} = \begin{pmatrix} -4 \\ y-5 \end{pmatrix}$$

$$\overline{CA} \cdot \overline{CB} = y^2 - 3y + 2 = (y-1) \cdot (y-2) = 0$$

$$y_1 = 1, y_2 = 2$$

Die gesuchten Punkte C sind die Schnittpunkte  
des Thaleskreises über AB mit der y-Achse:

$$C_1(0,1), C_2(0,2)$$



Aufgabe:

Gegeben ist der Vektor  $\vec{a} = \begin{pmatrix} 3 \\ 6 \end{pmatrix}$ . Bestimme die y-Komponente von  $\vec{b} = \begin{pmatrix} 6 \\ b_2 \end{pmatrix}$  so, dass  $\vec{b}$  auf  $\vec{a}$  senkrecht steht.

$$\vec{a} \cdot \vec{b} = 18 + 6b_2 = 0 \quad b_2 = -3 \quad \vec{b} = \begin{pmatrix} 6 \\ -3 \end{pmatrix}$$

allg.

Die Vektoren  $\vec{a} = \begin{pmatrix} a_1 \\ a_2 \end{pmatrix}$  und  $\vec{b} = \begin{pmatrix} a_2 \\ -a_1 \end{pmatrix}$  sind orthogonal.

Regel: Komponenten vertauschen, bei einer Komponente das Vorzeichen wechseln!

Aufgabe:

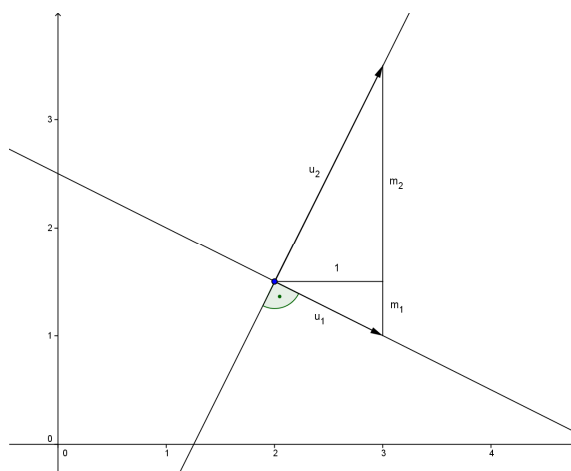
Welche Beziehung besteht zwischen den Steigungen  $m_1$  und  $m_2$  zweier Geraden  $g_1$  und  $g_2$ ,  
wenn  $g_1$  auf  $g_2$  aufeinander senkrecht stehen?

$$\text{Richtungsvektor von } g_1: \vec{u}_1 = \begin{pmatrix} 1 \\ m_1 \end{pmatrix}$$

$$\text{Richtungsvektor von } g_2: \vec{u}_2 = \begin{pmatrix} 1 \\ m_2 \end{pmatrix}$$

Aus der Bedingung für Orthogonalität von  $g_1$   
und  $g_2$ : folgt:

$$\vec{u}_1 \cdot \vec{u}_2 = 1 + m_1 \cdot m_2 = 0$$



Satz:

Zwei nicht achsenparallele Geraden stehen genau dann aufeinander senkrecht, wenn für ihre  
Steigungen gilt:  $m_1 \cdot m_2 = -1$

Aufgabe:

Fälle vom Punkt  $P(-3,4)$  das Lot auf die Gerade  $g: 4x + 3y - 25 = 0$

Geradensteigung  $m_1 = -\frac{4}{3}$

Steigung des Lots  $m_2 = \frac{3}{4}$

Ansatz für das Lot:  $y = \frac{3}{4}x + q$

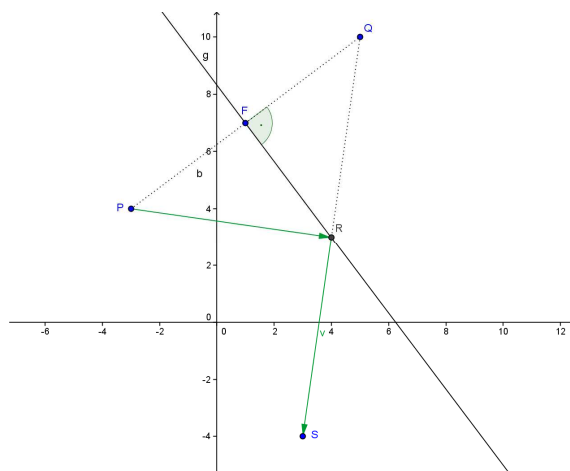
$q$  ist bestimmt durch die Eigenschaft, dass  $P(-3,4)$  auf der Lotgeraden liegt

Gleichung der Lotgeraden:

$l: y = \frac{3}{4}x + \frac{25}{4}$  oder  $l: -3x + 4y - 25 = 0$

Zusatzaufgabe:

Ein von  $P$  ausgehender Lichtstrahl soll nach Spiegelung an der Geraden  $g$  in den Punkt  $S(3,-4)$  reflektiert werden.



Lösungsidee:

Spiegle den Punkt  $P$  an der Geraden  $g$  nach  $Q$ .

Lotfusspunkt  $F$ : 
$$\begin{cases} 4x - 3y - 25 = 0 \\ -3x + 4y - 25 = 0 \end{cases}$$

$F(1,7)$

$F$  ist Mitte von  $PQ$  d.h. es gilt:

$$\vec{f} = \frac{1}{2} \cdot (\vec{p} + \vec{q}) \quad \text{oder} \quad \vec{q} = 2 \cdot \vec{f} - \vec{p} = \begin{pmatrix} 2+3 \\ 14-4 \end{pmatrix} = \begin{pmatrix} 5 \\ 10 \end{pmatrix}$$

Spiegelpunkt  $Q(5,10)$

Der Reflexionspunkt  $R$  ist der Schnittpunkt der Geraden  $QS$  mit der Geraden  $g$ .

Lösung:  $R(4,3)$

Übungsaufgabe:

Bestimme den Höhenschnittpunkt  $H$  im Dreieck  $A(4,2)$   $B(3,-6)$   $C(-6,0)$

Lösung :  $h_a: 3x - 2y - 8 = 0$   $h_b: 5x + y - 9 = 0$

Höhenschnittpunkt  $H(2,-1)$

### Beispiele von Beweisen mit dem Skalarprodukt:

Satz:

Die Höhen eines Dreiecks schneiden sich in einem Punkt.

Beweis:

Sei H der Schnittpunkt der Höhen  $h_a$  und  $h_c$

d.h. es gilt:

$$\vec{a} \cdot \vec{u} = 0 \text{ und } \vec{c} \cdot \vec{w} = 0$$

Zu zeigen ist nun, dass der Vektor  $\vec{v} = \overrightarrow{HB}$  auf  $\vec{b}$  senkrecht steht.

Es gilt:

$$\vec{a} = -\vec{v} + \vec{w} \text{ bzw. } \vec{w} = \vec{a} + \vec{v}$$

$$\vec{c} = -\vec{u} + \vec{v} \text{ bzw. } \vec{u} = \vec{v} - \vec{c}$$

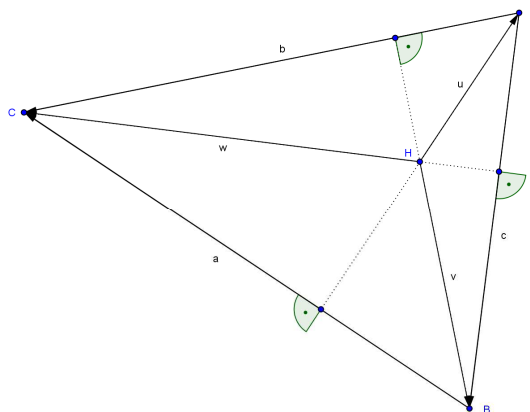
Nach Voraussetzung ist

$$\vec{a} \cdot \vec{u} = \vec{a} \cdot (\vec{v} - \vec{c}) = \vec{a} \cdot \vec{v} - \vec{a} \cdot \vec{c} = 0 \text{ und}$$

$$\vec{c} \cdot \vec{w} = \vec{c} \cdot (\vec{a} + \vec{v}) = \vec{c} \cdot \vec{a} + \vec{c} \cdot \vec{v} = 0$$

Addiert man die beiden Seiten, so erhält man:

$$\vec{a} \cdot \vec{v} + \vec{c} \cdot \vec{v} = (\vec{a} + \vec{c}) \cdot \vec{v} = \vec{b} \cdot \vec{v} = 0 \quad \in$$



Satz:

Ein Parallelogramm ist genau dann ein Rhombus, wenn seine Diagonalen aufeinander senkrecht stehen.

Bem:

Im Rhombus sind die Diagonalen auch Winkelhalbierende.

Beweis:

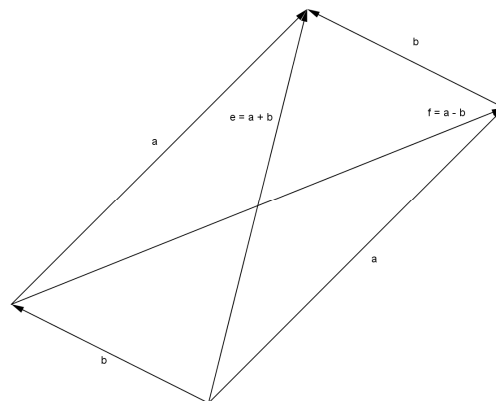
Die Diagonalen stehen aufeinander senkrecht

$$\Leftrightarrow \vec{e} \cdot \vec{f} = (\vec{a} + \vec{b}) \cdot (\vec{a} - \vec{b}) = 0$$

$$\Leftrightarrow \vec{a}^2 - \vec{b}^2 = |\vec{a}|^2 - |\vec{b}|^2 = 0$$

$$\Leftrightarrow |\vec{a}| = |\vec{b}|$$

$\Leftrightarrow$  Das Parallelogramm ist ein Rhombus.



Uebungsaufgabe:

Wie gross ist der Winkel zwischen  $\vec{a}$  und  $\vec{b}$  ( $\vec{a}, \vec{b} \neq \vec{0}$ ), wenn gilt:

$$|\vec{a} + \vec{b}| = |\vec{a} - \vec{b}|$$

Lösung:  $90^\circ$